



**ΥΠΟΥΡΓΕΙΟ ΕΘΝΙΚΗΣ ΠΑΙΔΕΙΑΣ & ΘΡΗΣΚΕΥΜΑΤΩΝ
ΓΕΝΙΚΗ ΓΡΑΜΜΑΤΕΙΑ ΕΚΠΑΙΔΕΥΣΗΣ ΕΝΗΛΙΚΩΝ
ΙΝΣΤΙΤΟΥΤΟ ΔΙΑΡΚΟΥΣ ΕΚΠΑΙΔΕΥΣΗΣ ΕΝΗΛΙΚΩΝ**



ΚΕΝΤΡΑ ΕΚΠΑΙΔΕΥΣΗΣ ΕΝΗΛΙΚΩΝ

ΒΑΣΙΚΕΣ ΔΕΞΙΟΤΗΤΩΝ ΤΣΙΓΓΑΝΩΝ II



ΥΠΟΥΡΓΕΙΟ ΕΘΝΙΚΗΣ ΠΑΙΔΕΙΑΣ ΚΑΙ ΘΡΗΣΚΕΥΜΑΤΩΝ
ΕΙΔΙΚΗ ΥΠΗΡΕΣΙΑ ΔΙΑΧΕΙΡΙΣΗΣ ΕΠΕΑΕΚ
ΕΥΡΩΠΑΪΚΗ ΕΝΩΣΗ
ΣΥΧΡΗΜΑΤΟΔΟΤΗΣΗ
ΕΥΡΩΠΑΪΚΟ ΚΟΙΝΩΝΙΚΟ ΤΑΜΕΙΟ
ΕΥΡΩΠΑΪΚΟ ΤΑΜΕΙΟ ΠΕΡΙΦΕΡΕΙΑΚΗΣ ΑΝΑΠΤΥΞΗΣ



ΠΑΙΔΕΙΑ ΜΠΡΟΣΤΑ
2^ο Επιχειρησιακό Πρόγραμμα
Εκπαίδευσης και Αρχικής
Επαγγελματικής Κατάρτισης

Διάρκεια : 50 ώρες

ΘΕΜΑΤΑ

Εργασία
Παιδική Εργασία
Κοινωνική Ασφάλιση

Επιστημονικός Σχεδιασμός: **Τρέσσου Ευαγγελία**
Σύνταξη ενοτήτων: **Κωστούλη Τριανταφυλλιά, Βασιλειάδης Βασίλειος,**
Χατζηνικολάου Άγγελος, Χασιώτης Βασίλειος,

Ευχαριστούμε θερμά για τη συμβολή τους σε αυτό το έργο τους: :Αιδήνη Αθανάσιο, Δουβλή Γεωργία, Τσαματζόπουλο Χρήστο και Δαλακλή Χρυσάνθη



Υπουργείο Εθνικής Παιδείας
& Θρησκευμάτων

Το παρόν έργο εντάσσεται στο ΕΠΕΑΕΚ 2 του Υπουργείου Εθνικής Παιδείας & Θρησκευμάτων, Μέτρο 1.1,
Ενέργεια 1.1.2 και συγχρηματοδοτείται από το ΕΚΤ κατά 75%.




Ευρωπαϊκό Κοινωνικό
Ταμείο

Εργασία


α. Επαγγέλματα ενηλίκων i. Μικροπωλητές




**ii. Έμπορος στη λαϊκή αγορά
Ευρώ-κέρματα**




681,5 δραχμές




340,75 δραχμές



170,375 δραχμές




68,15 δραχμές




34,075 δραχμές



17,0375 δραχμές



6,815 δραχμές




3,4075 δραχμές


Ευρώ-χαρτονομίσματα




-Τι κοινά χαρακτηριστικά έχουν μεταξύ τους όλα τα χαρτονομίσματα; Συνεργαστείτε ανά δύο για να τα εντοπίσετε.





1.703,75 δραχμές





3.407,5 δραχμές



6.815 δραχμές



34.075 δραχμές



- Γράψτε δίπλα σε κάθε χαρτονόμισμα την αξία του σε δραχμές.
- Συνεργαστείτε ανά δύο για να συγκρίνετε τις τιμές που βρήκατε.

Ο πίνακας του πολλαπλασιασμού

$1 \cdot 0 = 0$	$2 \cdot 0 = 0$	$3 \cdot 0 = 0$	$4 \cdot 0 = 0$	$5 \cdot 0 = 0$
$1 \cdot 1 = 1$	$2 \cdot 1 = 2$	$3 \cdot 1 = 3$	$4 \cdot 1 = 4$	$5 \cdot 1 = 5$
$1 \cdot 2 = 2$	$2 \cdot 2 = 4$	$3 \cdot 2 = 6$	$4 \cdot 2 = 8$	$5 \cdot 2 = 10$
$1 \cdot 3 = 3$	$2 \cdot 3 = 6$	$3 \cdot 3 = 9$	$4 \cdot 3 = 12$	$5 \cdot 3 = 15$
$1 \cdot 4 = 4$	$2 \cdot 4 = 8$	$3 \cdot 4 = 12$	$4 \cdot 4 = 16$	$5 \cdot 4 = 20$
$1 \cdot 5 = 5$	$2 \cdot 5 = 10$	$3 \cdot 5 = 15$	$4 \cdot 5 = 20$	$5 \cdot 5 = 25$
$1 \cdot 6 = 6$	$2 \cdot 6 = 12$	$3 \cdot 6 = 18$	$4 \cdot 6 = 24$	$5 \cdot 6 = 30$
$1 \cdot 7 = 7$	$2 \cdot 7 = 14$	$3 \cdot 7 = 21$	$4 \cdot 7 = 28$	$5 \cdot 7 = 35$
$1 \cdot 8 = 8$	$2 \cdot 8 = 16$	$3 \cdot 8 = 24$	$4 \cdot 8 = 32$	$5 \cdot 8 = 40$
$1 \cdot 9 = 9$	$2 \cdot 9 = 18$	$3 \cdot 9 = 27$	$4 \cdot 9 = 36$	$5 \cdot 9 = 45$
$1 \cdot 10 = 10$	$2 \cdot 10 = 20$	$3 \cdot 10 = 30$	$4 \cdot 10 = 40$	$5 \cdot 10 = 50$
$6 \cdot 0 = 0$	$7 \cdot 0 = 0$	$8 \cdot 0 = 0$	$9 \cdot 0 = 0$	$10 \cdot 0 = 0$
$6 \cdot 1 = 6$	$7 \cdot 1 = 7$	$8 \cdot 1 = 8$	$9 \cdot 1 = 9$	$10 \cdot 1 = 10$
$6 \cdot 2 = 12$	$7 \cdot 2 = 14$	$8 \cdot 2 = 16$	$9 \cdot 2 = 18$	$10 \cdot 2 = 20$
$6 \cdot 3 = 18$	$7 \cdot 3 = 21$	$8 \cdot 3 = 24$	$9 \cdot 3 = 27$	$10 \cdot 3 = 30$
$6 \cdot 4 = 24$	$7 \cdot 4 = 28$	$8 \cdot 4 = 32$	$9 \cdot 4 = 36$	$10 \cdot 4 = 40$
$6 \cdot 5 = 30$	$7 \cdot 5 = 35$	$8 \cdot 5 = 40$	$9 \cdot 5 = 45$	$10 \cdot 5 = 50$
$6 \cdot 6 = 36$	$7 \cdot 6 = 42$	$8 \cdot 6 = 48$	$9 \cdot 6 = 54$	$10 \cdot 6 = 60$
$6 \cdot 7 = 42$	$7 \cdot 7 = 49$	$8 \cdot 7 = 56$	$9 \cdot 7 = 63$	$10 \cdot 7 = 70$
$6 \cdot 8 = 48$	$7 \cdot 8 = 56$	$8 \cdot 8 = 64$	$9 \cdot 8 = 72$	$10 \cdot 8 = 80$
$6 \cdot 9 = 54$	$7 \cdot 9 = 63$	$8 \cdot 9 = 72$	$9 \cdot 9 = 81$	$10 \cdot 9 = 90$
$6 \cdot 10 = 60$	$7 \cdot 10 = 70$	$8 \cdot 10 = 80$	$9 \cdot 10 = 90$	$10 \cdot 10 = 100$



ΠΡΟΣΘΕΣΗ

ΙΣΟΝ

ΑΦΑΙΡΕΣΗ

ΠΟΛΛΑΠΛΑΣΙΑΣΜΟΣ

ΔΙΑΙΡΕΣΗ

**iii. Πλανόδιο εμπόριο:
Το επάγγελμα του γυρολόγου**



ΔΕΛΤΙΟ ΑΠΟΣΤΟΛΗΣ
ΤΙΜΟΛΟΓΙΟ

(Για αγορά αγροτικών προϊόντων)

ΑΠΟΤΡΑΕΙ
ΣΥΝΟΔΕΥΤΙΚΟ ΜΕΤΑΦΟΡΑΣ

N^ο 38

ΗΜΕΡΟΜ 8/3/04

ΠΕΛΑΤΗ Ονοματόπουλος

ΕΠΑΓ Μικροπωλητής Καραϊσκάκη 13 ΠΟΛΗ Θεσσαλονίκη

01234567 Δ.Ο.Υ. Ι' Θεσ/νίκης ΩΡ. 10.30 ΩΡΑ Ι. 11.45

ΤΟΠΟΣ ΑΠΟ. Θεσσαλονίκη

ΤΟΠΟΣ ΠΡΟΟΡΙΣΜΟΥ Ν. Μουδανιά

ΗΜ/ΝΙΑ	ΕΙΔΟΣ ΕΜΠΟΡΕΥΜΑΤΟΣ	ΠΟΣΟΤΗΤΑ ΗΡΤΗΜΕΝΩΝ	ΠΟΣΟΤΗΤΑ ΔΙΑΦΟΡΩΝ	ΜΟΝ. ΜΕΤΡΗΣ.	ΤΙΜΗ ΜΟΝΑΔΑΣ	ΑΣΙΑ	ΣΥΝΟΛΟ
8/3/04	πατάτες	500		κιλό	0,30	150	150

ΑΣΙΑ ΟΛΟΓΡΑΦΩΣ Εκατόν πενήντα τρία ευρώ και εβδομήντα πέντε λεπτά

Ο ΠΑΡΑΔΟΥΣ

Ο ΠΑΡΑΛΑΒΩΝ

ΣΥΝΟΛΟ 150

(ΦΥΤΙΚΑ) ΕΛΓΑ 2 % 3

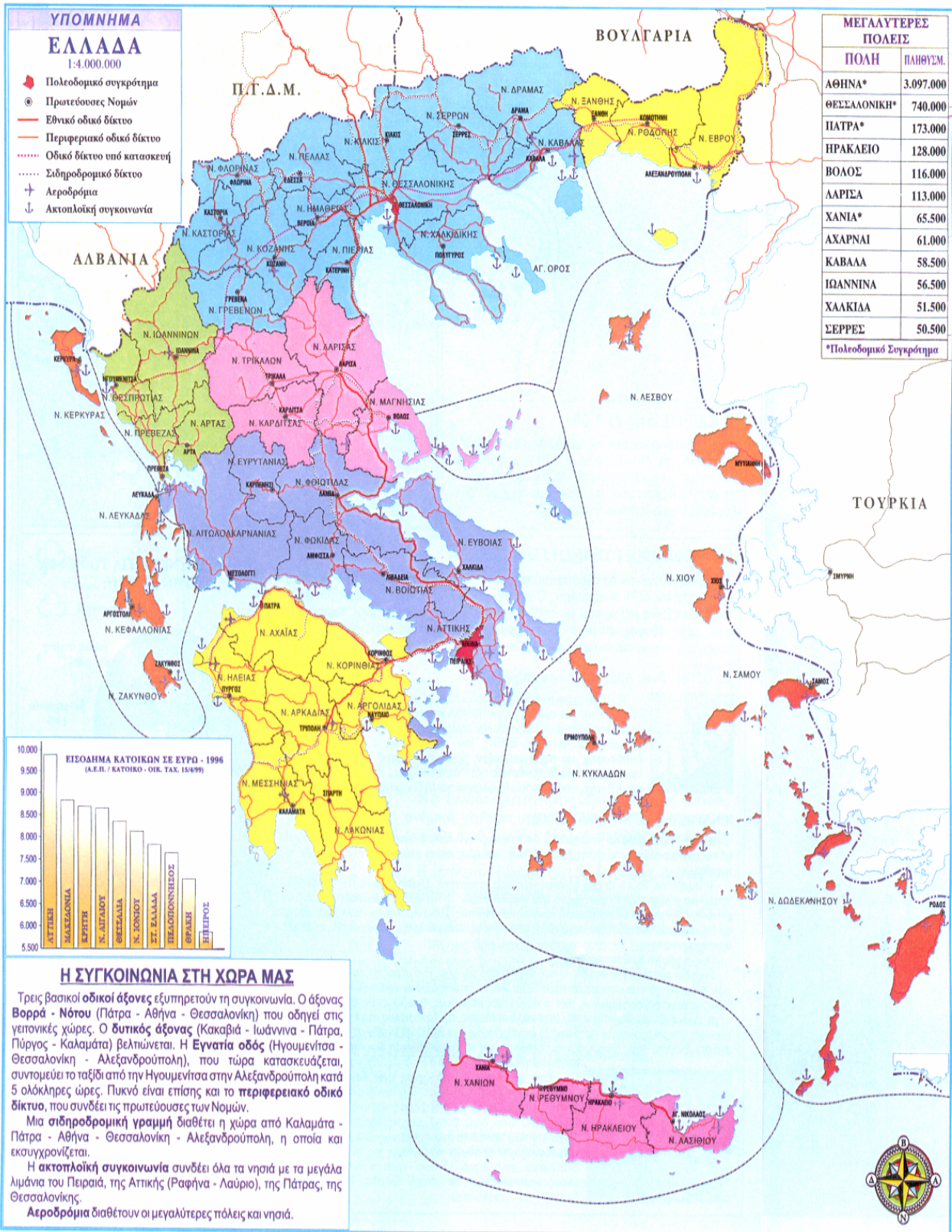
(ΖΩΙΚΑ) ΕΛΓΑ 0.5 % 0,75

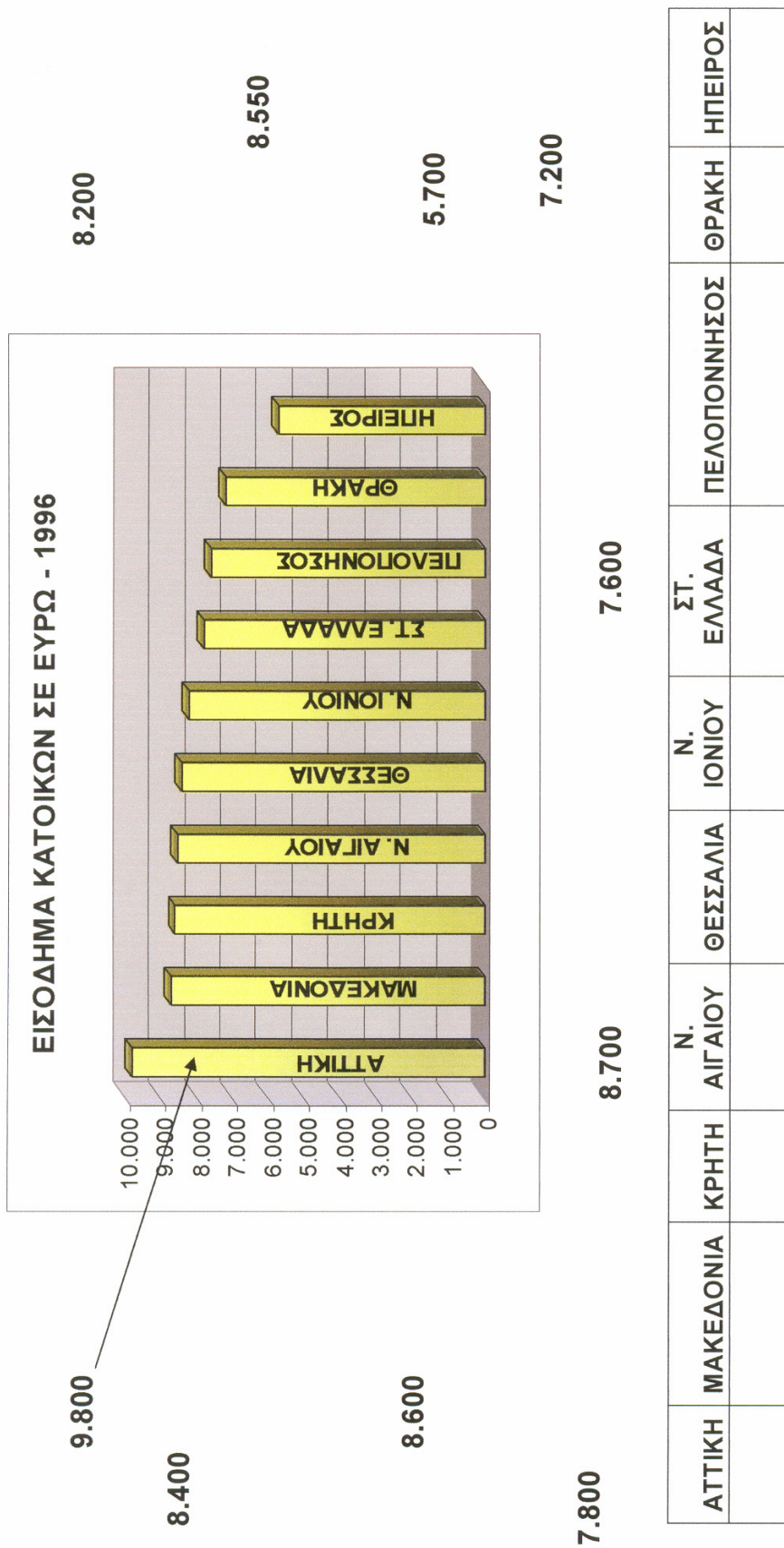
ΑΣΙΑ ΣΥΝΟΛΟ 153,75

entypora 541042

ΛΕΥΚΟ: ΠΡΟΤΥΠΟ - ΣΙΕΛ: ΓΙΑ ΤΟΝ ΠΑΡΑΓΟΓΟ - ΚΙΤΡΙΝΟ: ΣΤΕΛΕΧΟΣ


ΠΟΛΙΤΙΚΟΣ ΧΑΡΤΗΣ ΕΛΛΑΔΑΣ - ΣΥΓΚΟΙΝΩΝΙΑ





ΑΤΤΙΚΗ	ΜΑΚΕΔΟΝΙΑ	ΚΡΗΤΗ	Ν. ΑΙΓΑΙΟΥ	ΘΕΣΣΑΛΙΑ	Ν. ΙΟΝΙΟΥ	ΣΤ. ΕΛΛΑΔΑ	ΠΕΛΟΠΟΝΝΗΣΟΣ	ΘΡΑΚΗ	ΗΠΕΙΡΟΣ

ΜΕΓΑΛΥΤΕΡΕΣ ΠΟΛΕΙΣ	
ΠΟΛΗ	ΠΛΗΘΥΣΜΟΣ
ΑΘΗΝΑ	3.100.000
ΘΕΣΣΑΛΟΝΙΚΗ	740.000
ΠΑΤΡΑ	170.000
ΗΡΑΚΛΕΙΟ	128.000
ΒΟΛΟΣ	116.000
ΛΑΡΙΣΑ	113.000
ΧΑΝΙΑ	65.500
ΑΧΑΡΝΑΙ	61.000
ΚΑΒΑΛΑ	;
ΙΩΑΝΝΙΝΑ	56.500
ΧΑΛΚΙΔΑ	51.500
ΣΕΡΡΕΣ	50.500







ΑΥΓΗ

22 ΝΟΕ. 1996

Ήταν αγράμματος, μικροπωλητής, Τσιγγάνος...

Η ΚΟΨΙΑ του πείθει ότι είναι πάνω από 25, τα δάχτυλά του χτυπημένα από τη δουλειά. Κι όμως, ο Γιάννης Μουράτης ή Μωράτης, γιος του δολοφονηθέντος από αστυνομικό Τάσου Μουράτη, είναι μόλις 14...

Με τα μάτια βουρκωμένα αφηγείται το γεγονός - ήταν μαζί με τον πατέρα του στο μπλόκο έξω από τη Λειβαδιά, προχθές το μεσημέρι. Πέφτει στο οδόστρωμα έξω από τη Βουλή, όπου και η συγκέντρωση των Τσιγγάνων, για να δείξει πώς τους είχαν ξαπλωμέ-

νους, σε ποια θέση βρισκόταν ο πατέρας του όταν ο τροχονόμος Δημήτρης Τρίμης τον πυροβόλησε.

Κάποια στιγμή, ο Γιάννης βγάζει από την τσέπη και μου δείχνει την ταυτότητα του πατέρα του. Και όμως το αποδεικτικό έγγραφο πολλά έχει να πει: αγράμματος. Μικροπωλητής. Και κατοικεί στο τέρμα της οδού Ανδρουτσου. Έτσι, χωρίς αριθμό. Όπως η ελεύθερη ψυχή του Γιάννη Μουράτη ήθελε.

Ν.Π.

Η' ΑΝΘΡΩΠΟΚΤΟΝΙΕΣ-ΑΠΟΠΕΙΡΕΣ

Την 20-11-96 και ώρα 14.50 στο 2ο χιλ. της Ε.Ο.Λειβαδιάς-Άμφισσας, αστυνομικοί...των υπηρεσιών Α.Δ.Βοιωτίας και του Α.Τ.Αράχωβας, ενήργησαν έλεγχο σε οχήματα που μετέφεραν 35 αδιγγανούς, με σκοπό τη σύλληψη του καταδικομένου για ανθρωποκτονία ΧΡΙΣΤΑΚΗ Ιωάννη.

Κατά το χρόνο του ελέγχου το αυτόματο όπλο ενός των αστυνομικών που συμμετείχε στην επιχείρηση ελέγχου εκπιρσοκρότησε και τραυμάτισε ΘΑΝΑΣΙΜΑ τον ΜΟΥΡΑΤΗ Αναστάσιο, ετών 45.

ΑΠΟ το χθεσινό αστυνομικό δελτίο, δηλαδή το «Δελτίο Αδικημάτων και Συμβάντων» της χθεσινής μέρας. «...Το αυτόματο όπλο... εκπιρσοκρότησε». Κάπως μόνο του, σα να λέμε...Στο ίδιο δελτίο, παντως, για ένα άλλο όπλο η μεταχείριση είναι άλλη: «...Στο πέρασμα άγνωστος πυροβόλησε δύο φορές με πυροβόλο όπλο...». Αυτό το όπλο είναι «αλλιώτικο». Δεν εκπιρσοκρότησε μόνο του...

Σα δε ντρέπονται...

Κ.

iv. Εργάτες σε χωράφια – αγρεργάτες




ΠΑΡΑΓΩΓΙΚΟΣ ΧΑΡΤΗΣ (ΓΕΩΡΓΙΑ - ΚΤΗΝΟΤΡΟΦΙΑ)



Πινακίδες στις οδικές αρτηρίες





ν. Παλιατζήδες – ανακύκλωση



Β. Παιδική εργασία



Αγγελίες

Υπάλληλοι Καταστημάτων

ΑΕ ΕΝΔΥΜΑΤΩΝ ζητεί πωλητή - πωλήτρια με βασικές γνώσεις η/υ ☎ 2310-273.723

ΑΤΟΜΟ ζητούνται για βενζινόδοκο -πυλινθρία στο Τριόδι ☎ 697-3346.321 κος Γιάννης

ΑΤΟΜΑ ζητούνται για βενζινόδοκο και πλυντήριο ☎ 2310-439.076

ΑΤΟΜΟ ζητείται άνδρας ή γυναίκα για πωλητής /πακετάς σε αρτοζακ/πλαστείο απέναντι από το νοσοκομείο Παπανικολάου. Ώρες απασχόλησης Δευτέρ έως Παρασκευή 8ημ-11μ. Απαραίτητο δίπλωμα δικύκλου και κάρτα ανεργίας (άμεση πρόσληψη). Πληροφορίες: ☎2310-359.110 μεταξύ 11μ-3μμ

ΒΟΗΘΟΣ αποθήκης ως 30ετών με δίπλωμα οδήγησης τουλάχιστον απόφοιτος Λυκείου με γνώσεις Η/Υ ζητείται Προοπτικές εξέλιξης ☎2310-692.610

ΝΕΟΣ υπάλληλος ζητείται από επιχείρηση υδραυλικών ειδών στο Καλαμάρι 22-30ετών απόφοιτος λυκείου με δίπλωμα Γ κατηγορίας για 5ήμερη εργασία ☎2310-755.880

ΠΛΥΝΤΗΣ φορτηγών πεπεραμένος ζητείται ☎2310-475.456

ΠΩΛΗΤΗΣ έμπειρος ζητείται για κεντρικό κατάστημα της Καλαμαριάς Απαραίτητα προ-σόντα: γνώση η/υ και εκπληρωμένες στρατιωτικές υποχρεώσεις Πληροφορίες στα τηλέφωνα ☎2310-450483 ☎2310-435902 ☎2310-445075

ΠΩΛΗΤΗΣ ζητείται για το κατάστημα Κούκου Σταυρούπολης Πληροφορίες ☎2310-667117

ΠΩΛΗΤΗΣ πωλήτρια με γνώσεις επάνω στο σχέδιο κουζίνας Η/Υ καθώς και γνώση της Ιταλικής γλώσσας ζητείται από εταιρεία επί-πλων κουζίνας για έκθεση επίπλων ☎2310-327.470 ☎694-732225 κος Άγγελος

ΠΩΛΗΤΡΙΑ 18-26ετών ζητείται για το κατάστημα υποδημάτων "Κοσμίδη" στην οδόσ Βενι-ζέλου αρ.18 στο κέντρο ☎2310-277.189

ΠΩΛΗΤΡΙΑ έμπειρη (Ελληνίδα) ζητείται για ζαχαροπλαστείο νεαρής ηλικίας ευπαρουσία-στη ☎694-4520.392

ΠΩΛΗΤΡΙΑ έμπειρη ζητείται από κατάστημα υποδημάτων στην Κ.Τούμπα ☎2310-933.795

ΠΩΛΗΤΡΙΑ έως 25ετών ζητείται για αρτοζαχαροπλαστείο με ανανεωμέ-νη κάρτα ανεργίας ΟΑΕΔ για απο-γευματινές ώρες από τις 14.00-22.00 ☎2310-834.710 ☎693-6721053 -4

ΠΩΛΗΤΡΙΑ ζητείται από κεντρικό κατάστημα γυναικείων ρούχων στην Καλαμαριά Πληρο-φορίες στα τηλέφωνα ☎2310-450483 ☎2310-435902 ☎2310-445075

ΠΩΛΗΤΡΙΑ ζητείται για αρτοζαχαροπλαστείο στην Κ.Τούμπα Αν έχει εργασθεί στο είδος θα προτιμηθεί ☎697-7505.104 10ημ-4μμ

Υπάλληλοι Βιοτεχνιών

ΑΤΟΜΑ πεπειραμενα σε δίγαση μαζωτική πο-νταριά και μπράτσο ζητούνται από βιοτεχνία τζίν στην Α.Τούμπα ☎2310-943.926

ΑΤΟΜΟ γενικών καθκόντων έως 30ετών ζη-τείται από επώνυμη εταιρία ανδρικού ενδύμα-τος σχέση με β' ύλες αποθήκη και δίπλωμα οδήγησης προύπηρεσία θα εκτιμηθεί ☎2310-502.990 κα.Κόγια. Βιογραφικό: Fax: 2310-502.992


ΑΤΟΜΟ ζητείται από εξαγωγική εται-ρία για εργασία σε κοπτήριο βιοτε-χνίας με γνώσεις φασκοκόπτη ☎2310-511.027 Μοναστηρίου 250 1ος όρο-φος

ΑΤΟΜΟ ζητείται για εργασία από βιοτεχνία Κα-τα προτίμηση να οδηγεί μηχανάκι ☎2310-260.383

ΒΟΗΘΟΣ Κοπτηριου ζητείται από εξαγωγική μονάδα στους Αμπελοκηπους ☎2310-726.391

ΓΑΖΩΤΡΙΑ και μια αιδερώτρια για σταθερό ύψο-αμα ζητούνται για μόνιμη εργασία και μερική απασχόληση ☎2310-720.919

ΠΑΡΑΓΩΓΙΚΟΣ ΧΑΡΤΗΣ (ΓΕΩΡΓΙΑ - ΚΤΗΝΟΤΡΟΦΙΑ)

ΥΠΟΜΝΗΜΑ	
	Καλαμπόκι
	Βαμβάκι
	Ντομάτα
	Καρπούζι
	Λαχανικά
	Πατάτες
	Ζαχαρότευτλα
	Ελιές - Λάδι
	Σιτάρι
	Ρύζι
	Καπνός
	Φρούτα
	Αμπέλια-Κρασί
	Εσπεριδοειδή
	Βοοειδή
	Αιγοπρόβατα
	Πουλερικά

οικογένεια λέξεων: παραγωγικός,

.....

.....

.....

.....

λέξεις που περιέχουν δίψηφα σύμφωνα:

καλαμπόκι,.....

ντομάτα,.....

λέξεις που περιέχουν δίψηφα φωνήεντα:

αιγοπρόβατα,.....

βοοειδή,.....

λέξεις που περιέχουν συνδυασμό ευ:

ζαχαρότευτλα,.....

διαχωρισμός λέξεων υπομνήματος ανάλογα με το γένος τους
αρσενικά:

Ο.....
.....
.....

θηλυκά:

η.....
.....
.....

ουδέτερα:

ΤΟ.....
.....
.....

διαχωρισμός λέξεων υπομνήματος ανάλογα με τον αριθμό:

ενικός:.....
.....
.....
.....

πληθυντικός:.....
.....
.....
.....

Δελτίο αποστολής και τιμολόγιο αγοράς αγροτικών προϊόντων

ΔΕΛΤΙΟ ΑΠΟΣΤΟΛΗΣ ΤΙΜΟΛΟΓΙΟ (Για αγορά αγροτικών προϊόντων)								
<small>ΑΠΟΤΕΛΕΙ ΣΥΝΟΔΕΥΤΙΚΟ ΜΕΤΑΦΟΡΑΣ</small>							N° _____	
<small>ΗΜΕΡΟΜΗΝΙΑ</small> _____								
<small>ΠΕΛΑΤΗΣ</small> _____								
<small>ΕΠΑΓΓΕΛΜΑ</small> _____			<small>Δ/ΝΣΗ</small> _____			<small>ΠΟΛΗ</small> _____		
<small>Α.Φ.Μ.</small> _____			<small>Δ.Ο.Υ.</small> _____			<small>ΩΡΑ ΕΝΑΡ.</small> _____		<small>ΩΡΑ ΠΑΡΑΔ.</small> _____
<small>ΤΟΠΟΣ ΑΠΟΣΤΟΛΗΣ</small> _____					<small>ΤΟΠΟΣ ΠΡΟΟΡΙΣΜΟΥ</small> _____			
ΗΜ/ΝΙΑ	ΕΙΔΟΣ ΕΜΠΟΡΕΥΜΑΤΟΣ	ΠΟΣΟΤΗΤΑ ΗΡΤΗΜΕΝΩΝ	ΠΟΣΟΤΗΤΑ ΔΙΑΦΟΡΩΝ	ΜΟΝ. ΜΕΤΡΗΣ.	ΤΙΜΗ ΜΟΝΑΔΑΣ	ΑΣΙΑ		ΣΥΝΟΛΟ
<small>ΑΣΙΑ ΟΛΟΓΡΑΦΩΣ</small> _____					ΣΥΝΟΛΟ			
<small>Ο ΠΑΡΑΔΟΥΣ</small> _____					<small>(ΦΥΤΙΚΑ) ΕΛΓΑ 2 %</small>			
<small>Ο ΠΑΡΑΛΑΒΩΝ</small> _____					<small>(ΖΩΙΚΑ) ΕΛΓΑ 0.5 %</small>			
					ΑΣΙΑ ΣΥΝΟΛΟ			

αριθμ. Ε41042

ΛΕΥΚΟ: ΠΡΟΤΟΤΥΠΟ - ΣΙΑΕ: ΓΙΑ ΤΟΝ ΠΑΡΑΓΩΓΟ - ΚΙΤΡΙΝΟ: ΣΤΕΛΕΧΟΣ

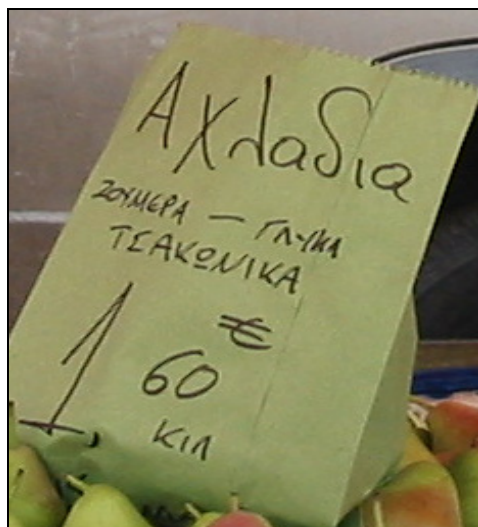
δ. Παραδοσιακά και σύγχρονα επαγγέλματα



Μουσικός



Πώληση των προϊόντων (λαϊκή αγορά)







Θέμα: Κοινωνική ασφάλιση



Έχω ασφάλεια.

.....

Δεν έχω ασφάλεια.

.....

Είμαι ασφαλισμένος/η στο Τ.Ε.Β.Ε

.....

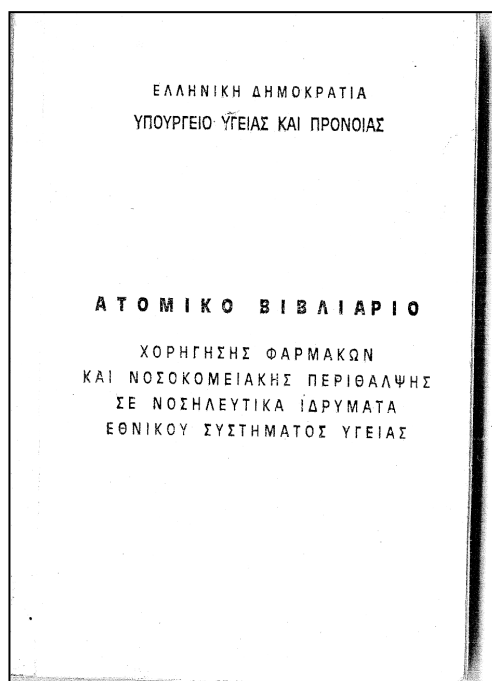
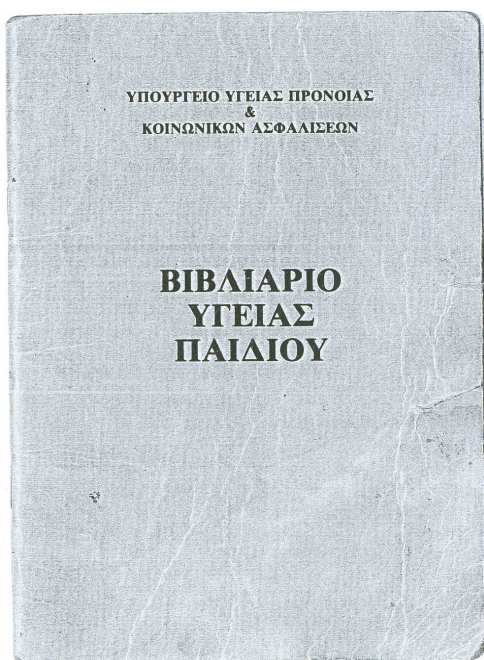


Κοινωνική Πρόνοια

.....

Δεν έχω ασφάλεια και είμαι στην Πρόνοια.

.....



Βιβλιάριο Υγείας

.....

Βιβλιάριο ασθενείας

.....

Φάρμακο-α εμβόλιο-α

.....

1.Είμαι ο/η.....

.....(ονοματεπώνυμο), έχω

.... παιδιά και δεν έχω ασφάλεια.

2.Είμαι ο/η.....

.....(ονοματεπώνυμο), είμαι

παντρεμένος/ή και δεν έχω ασφάλεια.

3.Είμαι ο/η.....

.....(ονοματεπώνυμο), δεν

είμαι ασφαλισμένος/ή και έχω βιβλιάριο ασθενείας της
πρόνοιας.

Απαιτούμενα δικαιολογητικά έκδοσης βιβλιαρίου ασθενείας από την Πρόνοια:

- 1. Αίτηση του της ενδιαφερόμενου/νης προς την Πρόνοια.**
- 2. Πιστοποιητικό οικογενειακής κατάστασης από το Δήμο.**
- 3. Δήλωση του αιτούντος ότι δεν είναι ασφαλισμένος.**
- 4. Φορολογική ενημερότητα**
- 5. Αντίγραφο ταυτότητας του/της συζύγου.**
- 6. Φωτογραφίες των μελών που πρόκειται να ασφαλιστούν.**
- 7. Ό,τι άλλο έγγραφο ζητάνε κατά τόπους οι υπηρεσίες, π.χ. λογαριασμό της Δ.Ε.Η. για βεβαίωση της διεύθυνσης κατοικίας κ.α.**



ΠΑΡΑΡΤΗΜΑ ΙΙ

ΠΑΙΔΙΚΗ ΠΡΟΣΤΑΣΙΑ
ΑΙΤΗΣΗ - ΥΠΕΥΘΥΝΗ ΔΗΛΩΣΗ
 (άρθρο 8 Ν.1599/1986 και άρθρο 3 παρ. 3 Ν.2690/1999)

Η ακρίβεια των στοιχείων που υποβάλλονται με αυτή τη δήλωση μπορεί να ελεγχθεί με βάση το αρχείο άλλων υπηρεσιών (άρθρο 8 παρ. 4 Ν. 1599/1986)

Περιγραφή αιτήματος : « ».

Προς ⁽¹⁾ : #	ΑΡΙΘΜ. ΠΡΩΤΟΚΟΛΛΟΥ	ΗΜΕΡΟΜΗΝΙΑ
Συμπληρώνεται από την Υπηρεσία		

ΣΤΟΙΧΕΙΑ ΑΙΤΟΥΝΤΟΣ

Ό - Η Όνομα:	Επώνυμο:		
Όνομα Πατέρα:	Επώνυμο Πατέρα:		
Όνομα Μητέρας:	Επώνυμο Μητέρας:		
Αριθ. Δελτ. Ταυτότητας:	A.O.M.:		
Ημερομηνία γέννησης ⁽²⁾ :	Τόπος Γέννησης:		
Τόπος Κατοικίας:	Οδός:	Αριθ.:	Τ.Κ.:
Τηλ:	Fax:	Δ/ση Ηλεκτρ. Ταχυδρομείου (Email):	

ΟΡΙΣΜΟΣ / ΣΤΟΙΧΕΙΑ ΕΚΠΡΟΣΩΠΟΥ⁽³⁾ (για κατάθεση αίτησης ή παραλαβή τελικής διοικητικής πράξης) : Σε περίπτωση που δε συντάσσεται η εξουσιοδότηση στο παρόν έντυπο απαιτείται προσκόμιση εξουσιοδότησης με επικύρωση του γνήσιου της υπογραφής από δημόσια υπηρεσία ή συμβολαιογραφικού πληροεξουσιού.

ΟΝΟΜΑ:	ΕΠΩΝΥΜΟ:	
ΟΝΟΜΑΤΕΠΩΝΥΜΟ ΠΑΤΕΡΑ:	ΑΔΤ:	
ΟΔΟΣ:	ΑΡΙΘ:	Τ.Κ.:
Τηλ:	Fax:	E-mail:

Με ατομική μου ευθύνη και γνωρίζοντας τις κυρώσεις⁽⁴⁾, που προβλέπονται από της διατάξεις της παρ. 6 του άρθρου 22 του Ν. 1599/1986, δηλώνω ότι:

(5)

(6) Εξουσιοδοτώ την Υπηρεσία να προβεί σε όλες τις απαραίτητες ενέργειες (αναζήτηση δικαιολογητικών κλπ) για τη διεκπεραίωση της υποθέσεώς μου.
 (3) Εξουσιοδοτώ τον/την πιο πάνω αναφερόμενο/η να καταθέσει την αίτηση ή/και να παραλάβει την τελική πράξη. (Διαγράφεται όταν δεν ορίζεται εκπρόσωπος)

.....20.....

(Υπογραφή)

Είμαι ο Χρυσοβαλάντης, είμαι Ρομά και δεν έχω ασφάλεια.

Θέλω να έχω φάρμακα και εμβόλια για τα παιδιά μου.



**ΥΠΟΥΡΓΕΙΟ ΕΘΝΙΚΗΣ ΠΑΙΔΕΙΑΣ & ΘΡΗΣΚΕΥΜΑΤΩΝ
ΓΕΝΙΚΗ ΓΡΑΜΜΑΤΕΙΑ ΕΚΠΑΙΔΕΥΣΗΣ ΕΝΗΛΙΚΩΝ
ΙΝΣΤΙΤΟΥΤΟ ΔΙΑΡΚΟΥΣ ΕΚΠΑΙΔΕΥΣΗΣ ΕΝΗΛΙΚΩΝ**



ΚΕΝΤΡΑ ΕΚΠΑΙΔΕΥΣΗΣ ΕΝΗΛΙΚΩΝ

ΒΑΣΙΚΕΣ ΔΕΞΙΟΤΗΤΩΝ ΤΣΙΓΓΑΝΩΝ ΠΑΡΑΡΤΗΜΑ ΔΕΞΙΟΤΗΤΩΝ ΑΡΙΘΜΗΤΙΣΜΟΥ



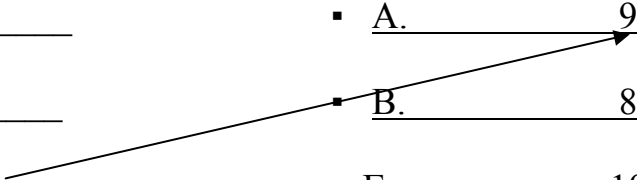
ΥΠΟΥΡΓΕΙΟ ΕΘΝΙΚΗΣ ΠΑΙΔΕΙΑΣ ΚΑΙ ΘΡΗΣΚΕΥΜΑΤΩΝ
ΕΙΔΙΚΗ ΥΠΗΡΕΣΙΑ ΔΙΑΧΕΙΡΙΣΗΣ ΕΠΕΑΕΚ
ΕΥΡΩΠΑΪΚΗ ΕΝΩΣΗ
ΣΥΓΧΡΗΜΑΤΟΔΟΤΗΣΗ
ΕΥΡΩΠΑΪΚΟ ΚΟΙΝΩΝΙΚΟ ΤΑΜΕΙΟ
ΕΥΡΩΠΑΪΚΟ ΤΑΜΕΙΟ ΠΕΡΙΦΕΡΕΙΑΚΗΣ ΑΝΑΠΤΥΞΗΣ



ΠΑΙΔΕΙΑ ΜΠΡΟΣΤΑ
2^ο Επιχειρησιακό Πρόγραμμα
Εκπαίδευσης και Αρχικής
Επαγγελματικής Κατάρτισης

Επιστημονικός Σχεδιασμός: **Τρέσσου Ευαγγελία**
Σύνταξη ενοτήτων: **Κωστούλη Τριανταφυλλιά, Βασιλειάδης Βασίλειος,**
Χατζηνικολάου Άγγελος, Χασιώτης Βασίλειος,
Ευχαριστούμε θερμά για τη συμβολή τους σε αυτό το έργο τους: :Αϊδίνη Αθανάσιο, Δουβλή Γεωργία,
Τσαματζόπουλο Χρήστο και Δαλακλή Χρυσάνθη

Αντιστοιχίστε τα αθροίσματα της στήλης Α με τους αριθμούς της στήλης Β

- | | | |
|-----|---------------|-----------------------------|
| 1. | $1+5=$ _____ | ▪ <u>A.</u> _____ <u>9</u> |
| 2. | $2+3=$ _____ | ▪ <u>B.</u> _____ <u>8</u> |
| 3. | $8+1=$ _____ | ▪ <u>Γ.</u> _____ <u>10</u> |
| 4. | $6+2=$ _____ | ▪ <u>Δ.</u> _____ <u>10</u> |
| 5. | $1+1=$ _____ | ▪ <u>E.</u> _____ <u>8</u> |
| 6. | $9+1=$ _____ | ▪ <u>Στ.</u> _____ <u>9</u> |
| 7. | $2+8=$ _____ | ▪ <u>Z.</u> _____ <u>9</u> |
| 8. | $4+5=$ _____ | ▪ <u>H.</u> _____ <u>8</u> |
| 9. | $3+4=$ _____ | ▪ <u>Θ.</u> _____ <u>7</u> |
| 10. | $3+3=$ _____ | ▪ <u>I.</u> _____ <u>5</u> |
| 11. | $5+3=$ _____ | ▪ <u>K.</u> _____ <u>10</u> |
| 12. | $10+0=$ _____ | ▪ <u>Λ.</u> _____ <u>6</u> |
| 13. | $4+4=$ _____ | ▪ <u>M</u> _____ <u>10</u> |
| 14. | $6+3=$ _____ | ▪ <u>N.</u> _____ <u>2</u> |
| 15. | $3+7=$ _____ | ▪ <u>Ξ.</u> _____ <u>6</u> |
- 

$7+2=$

$3+6=$

$5+4=$

$1+3=$

$2+2=$

$3+1=$

$8+2=$

$3+7=$

$4+6=$

$7+1=$

$2+6=$

$3+5=$

$5+5=$

$5+2=$

$2+5=$

$4+3=$

$6+1=$

$1+7=$

$1+9=$

$2+1=$

$3+5=$

$2+4=$

$2+6=$

$2+8=$

$2+7=$

$3+6=$

$4+5=$

$3+3=$

$4+4=$

$2+2=$

$2-1=$

$8-7=$

$6-5=$

$6-6=$

$4-2=$

$3-1=$

$4-1=$

$1-1=$

$9-4=$

$5-3=$

$7-5=$

$8-6=$

$7-6=$

$5-1=$

$5-2=$

$9-7=$

$6-1=$

$10-10=$

$9-2=$

$6-2=$

$9-6=$

$4-4=$

$10-1=$

$8-4=$

$9-5=$

$7-7=$

$8-5=$

$7-4=$

$4-3=$

$9-3=$

1 και κάνουν 10

2 και κάνουν 10

3 και κάνουν 10

4 και κάνουν 10

5 και κάνουν 10

6 και κάνουν 10

7 και κάνουν 10

8 και κάνουν 10

9 και κάνουν 10

11 και κάνουν 20

12 και κάνουν 20

13 και κάνουν 20

14 και κάνουν 20

15 και κάνουν 20

16 και κάνουν 20

17 και κάνουν 20

18 και κάνουν 20

19 και κάνουν 20

1 και κάνουν 20

2 και κάνουν 20

3 και κάνουν 20

4 και κάνουν 20

5 και κάνουν 20

6 και κάνουν 20

7 και κάνουν 20

8 και κάνουν 20

9 και κάνουν 20

Βρες τη σωστή απάντηση

1) Στην τελευταία απογραφή βρέθηκε ότι οι κάτοικοι μιας πόλης είναι πενήντα δύο χιλιάδες πεντακόσιοι οκτώ. Βάλε σε κύκλο το σωστό αριθμό.

A) 52.508

B) 52.580

Γ) 525.008

Δ) 5.200.508

2) Ο Κώστας ήθελε να αγοράσει αυτοκίνητο. Πήγε στην Τράπεζα να δει πόσα χρήματα είχε. Οι καταθέσεις του ήταν δεκαπέντε χιλιάδες και δεκαπέντε ευρώ. Βάλε σε κύκλο το σωστό ποσό.

A) 1.515 €

B) 15.015 €

Γ) 150.015 €

Δ) 1.500.015 €

3) Η τιμή που συμφώνησαν έμπορος και παραγωγός για το κιλό τα φρούτα ήταν 1.50 €. Πόσα χρήματα έδωσε ο έμπορος αν πήρε διακόσια πενήντα κιλά φρούτα;

A) 37,50 €

B) 375 €

Γ) 3.750 €

Δ) 37.500 €

Να αντιστοιχίσεις τις ταμπέλες στα αριστερά με τις ταμπέλες στα δεξιά που δείχνουν πινακίδες αυτοκινήτων.

Το μεγαλύτερο
νούμερο

ΚΛΜ 1345

Το δεύτερο
μεγαλύτερο

ΧΚΜ 7852

Το τρίτο
μεγαλύτερο

ΝΖΙ 1233

Το τέταρτο
μεγαλύτερο

ΝΑΒ 1223

Το μικρότερο

ΝΑΑ 8752

Να δημιουργήσεις τα παρακάτω ποσά χρησιμοποιώντας κέρματα των 10 λεπτών και του 1 λεπτού.



ΠΟΣΟ	10 Λ	1 Λ
32 Λ		
48 Λ		
12 Λ		
75 Λ		
39 Λ		
24 Λ		
50 Λ		
99 Λ		

**ΘΕΣΙΑΚΗ ΑΞΙΑ ΨΗΦΙΟΥ
ΔΕΚΑΔΕΣ ΚΑΙ ΜΟΝΑΔΕΣ**

Κοίταξε αυτούς τους αριθμούς.



2

22

222

Ο αριθμός 2 χρησιμοποιείται σε όλους τους αριθμούς και κάθε φορά σημαίνει κάτι διαφορετικό.

2 – σημαίνει 2 μονάδες

22 – σημαίνει 2 δεκάδες και 2 μονάδες


222 – σημαίνει 2 εκατοντάδες, 2 δεκάδες και 2 μονάδες

Η θέση του 2 σε έναν αριθμό δηλώνει την αξία του.

Κέρματα




100 σε κάθε 1€




50 σε κάθε 1€




10 σε κάθε 1€



10 σε κάθε 1€









5 σε κάθε 1€



2 σε κάθε 1€

Πόσα κέρματα από κάθε ένα χρειάζεσαι για να πάρεις 1€;

- Συμπλήρωσε τα κενά

Για 1€ χρειάζομαι κέρματα του 1 λεπτού.

Για 1€ χρειάζομαι κέρματα των 10Λ.

Για 1€ χρειάζομαι κέρματα των 2Λ.

Για 1€ χρειάζομαι κέρματα των 20Λ.

Για 1€ χρειάζομαι κέρματα των 5Λ.

Για 1€ χρειάζομαι κέρματα των 50Λ.

- Με πόσους διαφορετικούς τρόπους μπορείς να σχηματίσεις 1€;

Παράδειγμα: $2 * 50\Lambda = 1\text{€}$

.....

.....

.....

.....

.....

.....

Σημείωσε 5 πράγματα μπορείς να αγοράσεις με 2 €; Πόσα ρέστα θα πάρεις από το ταμείο για κάθε αγορά; Πόσα χρήματα θα κερδίσεις αν χρησιμοποιήσεις την κάρτα του Σούπερ Μάρκετ;

Είδη Παντοπωλείου

FRISKIES
βοδινό και λαχανικά
400 γρ.
20% φθηνότερα



NESCAFÉ classic
100 γρ.
ΔΩΡΟ
δύο σουσέρ



Ρόφημα σοκολάτας
NESQUIK
ΔΩΡΟ
ένα πορτοφόλι Nesquik



FRISKIES
πατέ μοσχάρι
1200 γρ.
35% φθηνότερα



Ελληνικός καφές
ΛΟΥΜΙΔΗΣ ΠΑΠΑΓΓΑΛΟΣ
2X200 γρ.
ΔΩΡΟ
σετ φλυτζάνι



NESCAFÉ classic
2X200 γρ.
ΔΩΡΟ
ένα τσαντάκι μέσης



Καραμέλες cola
200 γρ.



ΚΑΝΟΝΙΚΗ ΤΙΜΗ	ΤΙΜΗ
89Λ	71Λ

Λουκούμια
τριαντάφυλλο
ΧΑΪΤΟΓΛΟΥ
300 γρ.



ΚΑΝΟΝΙΚΗ ΤΙΜΗ	ΤΙΜΗ
€1,15Λ	99Λ

Ψωμί για τoστ min
340-350 γρ.



ΚΑΝΟΝΙΚΗ ΤΙΜΗ	ΤΙΜΗ
79Λ	70Λ

Πατατόκια
200 γρ.



ΚΑΝΟΝΙΚΗ ΤΙΜΗ	ΤΙΜΗ
79Λ	62Λ

Μακαρόνια Νο5
500 γρ.



ΚΑΝΟΝΙΚΗ ΤΙΜΗ	ΤΙΜΗ
33Λ	28Λ

Φρέσκα φρούτα & λαχανικά

Πεπόνια
το κιλό



ΚΑΝΟΝΙΚΗ ΤΙΜΗ	ΤΙΜΗ
€1,09Λ	99Λ

Αγγουράκια Κνωσσού
το κιλό



ΚΑΝΟΝΙΚΗ ΤΙΜΗ	ΤΙΜΗ
89Λ	79Λ

Ροδάκινα
το κιλό



ΚΑΝΟΝΙΚΗ ΤΙΜΗ	ΤΙΜΗ
€1,65Λ	€1,49Λ

Φρεσκοσυσκευασμέν κοτόπουλο & κρέας

Ολόκληρο
κοτόπουλο
ΝΙΤΣΙΑΚΟΣ
το κιλό



ΚΑΝΟΝΙΚΗ ΤΙΜΗ	ΤΙΜΗ
€2,35Λ	€2,23Λ

Μοσχαρίσιος κιμάς
ΘΡΑΚΗ
το κιλό



ΚΑΝΟΝΙΚΗ ΤΙΜΗ	ΤΙΜΗ
€6,42Λ	€5,99Λ

Χοιρινή μπριζόλα
το κιλό



ΚΑΝΟΝΙΚΗ ΤΙΜΗ	ΤΙΜΗ
€4,50Λ	€4,31Λ

Προϊόντα ψυγείου & κατάψυξης

Επιδόρπιο γιαουρτιού με φρούτα 500 γρ.

ME KAPITA
Dial%

ΚΑΝΟΝΙΚΗ ΤΙΜΗ	ΤΙΜΗ
75Λ	62Λ

Βούτυρο αγελάδος 250 γρ.

ME KAPITA
Dial%

ΚΑΝΟΝΙΚΗ ΤΙΜΗ	ΤΙΜΗ
€1,50Λ	€1,04Λ

Τηγμένο τυρί σε μερίδες 250 γρ.

ME KAPITA
Dial%

ΚΑΝΟΝΙΚΗ ΤΙΜΗ	ΤΙΜΗ
€1,23Λ	95Λ

Βαρελίσια φέτα 500 γρ.

ME KAPITA
Dial%

ΚΑΝΟΝΙΚΗ ΤΙΜΗ	ΤΙΜΗ
€6,55Λ	€6,09Λ



Παριζάκι γιάας ΝΙΚΑΣ 720 γρ.

ME KAPITA
Dial%

ΚΑΝΟΝΙΚΗ ΤΙΜΗ	ΤΙΜΗ
€3,09Λ	€2,99Λ



Λουκάνικα Τρικάλων ΔΙΡΟ 380 γρ.

ME KAPITA
Dial%

ΚΑΝΟΝΙΚΗ ΤΙΜΗ	ΤΙΜΗ
€2,19Λ	€1,89Λ



Σαλάμι Λευκάδος 250 γρ.

ME KAPITA
Dial%

ΚΑΝΟΝΙΚΗ ΤΙΜΗ	ΤΙΜΗ
€1,65Λ	€1,39Λ



Κατεψυγμένα καλαμαράκια ρομόνα 400 γρ.

ME KAPITA
Dial%

ΚΑΝΟΝΙΚΗ ΤΙΜΗ	ΤΙΜΗ
€2,20Λ	€1,56Λ



Κατεψυγμένα φασολάκια στογγυλά 1 κιλό

ME KAPITA
Dial%

ΚΑΝΟΝΙΚΗ ΤΙΜΗ	ΤΙΜΗ
€1,74Λ	€1,30Λ



Παγωτό στρατασιέλλα ΑΛΟΜΑ 1 λίτρο

ME KAPITA
Dial%

ΚΑΝΟΝΙΚΗ ΤΙΜΗ	ΤΙΜΗ
€5,00Λ	€4,21Λ



Παγωτό πύραυλος σοκολάτα-κρέμα 4X110 γρ.

ME KAPITA
Dial%

ΚΑΝΟΝΙΚΗ ΤΙΜΗ	ΤΙΜΗ
€1,39Λ	€1,19Λ



Παγωτό βανίλια - σοκολάτα VARIETE 1 λίτρο

ME KAPITA
Dial%

ΚΑΝΟΝΙΚΗ ΤΙΜΗ	ΤΙΜΗ
€4,25Λ	€3,77Λ

Είδη ατομικής φροντίδας



Οδοντόκρεμα COLGATE sensation whitening 75 ml

ME KAPITA
Dial%

ΚΑΝΟΝΙΚΗ ΤΙΜΗ	ΤΙΜΗ
€2,11Λ	€1,95Λ



Αντηλιακό γαλάκτωμα δ.π. 20 200 ml

ME KAPITA
Dial%

ΚΑΝΟΝΙΚΗ ΤΙΜΗ	ΤΙΜΗ
€3,79Λ	€2,91Λ



Αντηλιακό σπρέυ δ.π. 8 200 ml

ME KAPITA
Dial%

ΚΑΝΟΝΙΚΗ ΤΙΜΗ	ΤΙΜΗ
€4,21Λ	€3,25Λ



Χαρτομάνδηλα 150 τεμ.

ME KAPITA
Dial%

ΚΑΝΟΝΙΚΗ ΤΙΜΗ	ΤΙΜΗ
95Λ	73Λ



Αντηλιακό σπρέυ δ.π. 15&25 200 ml

ME KAPITA
Dial%

ΚΑΝΟΝΙΚΗ ΤΙΜΗ	ΤΙΜΗ
€4,65Λ	€3,59Λ



Γαλάκτωμα για μετά τον ήλιο 200 ml

ME KAPITA
Dial%

ΚΑΝΟΝΙΚΗ ΤΙΜΗ	ΤΙΜΗ
€2,03Λ	€1,55Λ

Είδη οικιακής φροντίδας



Λευκαντικό ρούχων 300 γρ.

ME KAPITA
Dial%

ΚΑΝΟΝΙΚΗ ΤΙΜΗ	ΤΙΜΗ
95Λ	85Λ



Συμπυκνωμένο απορρυπαντικό πιάτων 1 λίτρο

ME KAPITA
Dial%

ΚΑΝΟΝΙΚΗ ΤΙΜΗ	ΤΙΜΗ
€1,15Λ	82Λ



Αμμωνία για άμεση ανακούφιση από τα τα τιμητήματα AFTER BITE 1 τεμ.

ME KAPITA
Dial%

ΚΑΝΟΝΙΚΗ ΤΙΜΗ	ΤΙΜΗ
€3,75Λ	€3,25Λ



Εντομοαπωθητική συσκευή για ταμπλέτες KATOL 1 τεμ.

ME KAPITA
Dial%

ΚΑΝΟΝΙΚΗ ΤΙΜΗ	ΤΙΜΗ
€2,36Λ	€2,10Λ

Έχεις ένα κέρμα του 1€. Πόσα ρέστα θα πάρεις αν αγοράσεις τα εξής προϊόντα;

- Ένα ψωμί για τοστ. Κοστίζει Ρέστα
- Ένα πακέτο μακαρόνια. Κοστίζει Ρέστα
- Ένα γιαούρτι. Κοστίζει Ρέστα
- Ένα πακέτο πατατάκια. Κοστίζει Ρέστα

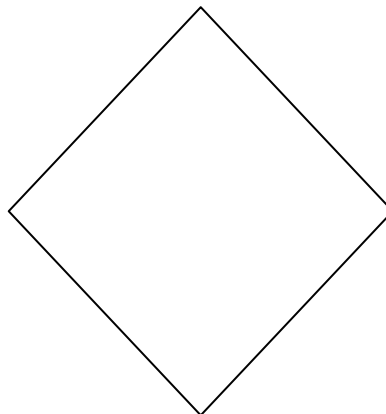

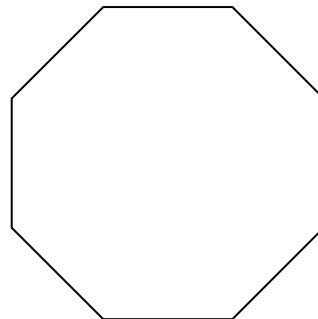
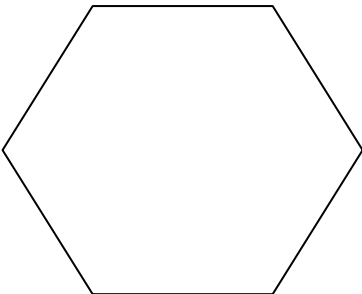
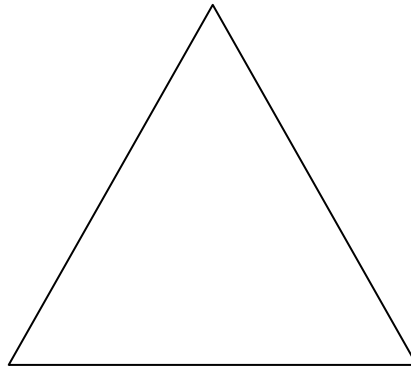
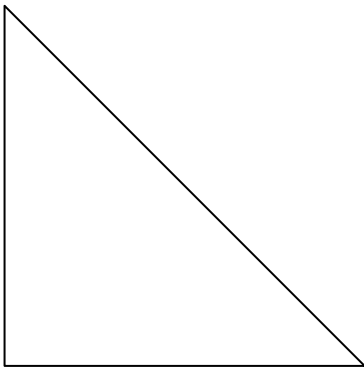

Έχεις ένα κέρμα των 2 €. Πόσα ρέστα θα πάρεις αν αγοράσεις τα εξής προϊόντα;

- 3 πακέτα μακαρόνια. Κοστίζουν Ρέστα
- 1 πακέτο φασολάκια. Κοστίζει Ρέστα
- 2 γιαούρτια. Κοστίζουν Ρέστα
- 1 κιλό ροδάκινα. Κοστίζει Ρέστα

Έχεις ένα χαρτονόμισμα των 5 €. Πόσα ρέστα θα πάρεις αν αγοράσεις τα εξής προϊόντα;

- 2 πακέτα λουκάνικα. Κοστίζουν Ρέστα
- 3 πακέτα βούτυρο. Κοστίζουν Ρέστα
- 2 απορρυπαντικά πιάτων. Κοστίζουν Ρέστα
- 2 οδοντόκρεμες. Κοστίζουν Ρέστα



Σχήματα





Δραστηριότητες με γεωμετρικά σχήματα

- 1. Βρέστε τα σήματα της τροχαίας που είναι κύκλοι και έχουν βέλη. Τι σημαίνουν;
- 2. Βρέστε τα σήματα της τροχαίας που είναι τρίγωνα. Τι σημαίνουν;
- 3. Βρέστε τα σήματα της τροχαίας που είναι τετράπλευρα. Τι σημαίνουν;
- 4. Βρέστε τα σήματα της τροχαίας που είναι πολύγωνα. Τι σημαίνουν;

Σήματα τροχαίας





ΡΥΘΜΙΣΤΙΚΕΣ ΠΙΝΑΚΙΑΣ (συνέχεια)



(P-40)

Απαγορεύεται η στάση και η στάθμευση.



(P-41)

Απαγορεύεται η στάθμευση επί της πλευράς της πινακίδας κατά τους μόνους μήνες.



(P-42)

Απαγορεύεται η στάθμευση επί της πλευράς της πινακίδας κατά τους ζυγούς μήνες.



(P-43)

Περιοχή απαγόρευσης στάθμευσης (στάθμευση περιορισμένης χρονικής διάρκειας).



(P-44)

Έξοδος από περιοχή απαγορευμένης στάθμευσης.



(P-45)

Απαγορεύεται η είσοδος σε οχήματα που μεταφέρουν πάνω από ορισμένη ποσότητα εμπορευμάτων ή εκπελάτων υγρών.



(P-46)

Απαγορεύεται η είσοδος σε οχήματα, που μεταφέρουν πάνω από ορισμένη ποσότητα ελας, που μπορούν να προκαλέσουν μείωση υδάτων.



(P-47)

Υποχρεωτική κατεύθυνση πορείας προς τα αριστερά.



(P-48)

Υποχρεωτική κατεύθυνση πορείας προς τα δεξιά.



(P-49)

Υποχρεωτική κατεύθυνση πορείας προς τα εμπρός.



(P-50)

Υποχρεωτική κατεύθυνση πορείας με στροφή αριστερά ή δεξιά.



(P-50a)

Υποχρεωτική κατεύθυνση πορείας με στροφή αριστερά.



(P-50b)

Υποχρεωτική κατεύθυνση πορείας με στροφή δεξιά.



(P-51a)

Υποχρεωτική κατεύθυνση πορείας εμπρός ή αριστερά.



(P-51b)

Υποχρεωτική κατεύθυνση πορείας εμπρός ή δεξιά.



(K-28a)

Διακλάδωση με κάθετη οδό αριστερά, οι επί της οποίας κινούμενοι οφείλουν να παραχωρήσουν προτεραιότητα.



(K-28b)

Διακλάδωση με κάθετη οδό δεξιά, οι επί της οποίας κινούμενοι οφείλουν να παραχωρήσουν προτεραιότητα.



(K-29a)

Διακλάδωση με λοξή οδό αριστερά, οι επί της οποίας κινούμενοι οφείλουν να παραχωρήσουν προτεραιότητα.



(K-29b)

Διακλάδωση με λοξή οδό δεξιά, οι επί της οποίας κινούμενοι οφείλουν να παραχωρήσουν προτεραιότητα.



(K-30)

Προσέγγιση σε κυκλοβή υποχρεωτική πορεία.



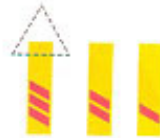
(K-31)

Κίνδυνος λόγω ισόπεδης σιδηροδρομικής διάβασης με κινητά φράγματα.



(K-32)

Κίνδυνος λόγω ισόπεδης σιδηροδρομικής διάβασης χωρίς κινητά φράγματα.



(K-33) (K-34) (K-35)

Πρόσθετες επαναληπτικές Πινακίδες στις προσβάσεις ισόπεδων σιδηροδρομικών διαβάσεων ή κινητών γεφυρών, οι οποίες δηλώνουν προσέγγιση σ' αυτές.



(K-36)

Κίνδυνος λόγω άμεσης γειτονίας ισόπεδης σιδηροδρομικής διάβασης, χωρίς κινητά φράγματα, μονής σιδηροδρομικής γραμμής.



(K-37)

Κίνδυνος λόγω άμεσης γειτονίας ισόπεδης σιδηροδρομικής διάβασης, χωρίς κινητά φράγματα, διπλής ή πολλαπλής σιδηροδρομικής γραμμής.



(K-38a)

Επικίνδυνο έρρισμα αριστερά.



(K-38b)

Επικίνδυνο έρρισμα δεξιά.



(K-39)

Συχνή κυκλοφοριακή συμφόρηση.



(K-40)

Σήραγγα.

ΠΙΝΑΚΙΑΣ ΑΝΑΓΓΕΛΙΑΣ ΚΙΝΔΥΝΟΥ (συνέχεια)



(K-13)

Επικίνδυνη κατάσταση χολών (αυτο-δυναμολόσο).



(K-14)

Κίνδυνος από πτώση βράχων και από την παρουσία τους στο οδόστρωμα.



(K-15)

Κίνδυνος λόγω διάβωσης πεζών.



(K-16)

Κίνδυνος λόγω συχνής μίησης παιδιών (σχολεία, γηπεδα κλπ.).



(K-17)

Κίνδυνος λόγω συχνής εισόδου ή διάβησης ποδηλατιστών.



(K-18)

Κίνδυνος από διάβρωση οικόσιτων ζώων.



(K-19)

Κίνδυνος από διάβρωση τετράποδων ζώων.



(K-20)

Κίνδυνος λόγω εγκαταλελειμμένων εργασιών στην οδό.



(K-21)

Προσοχή, κόμβος ή θέση όπου η κυκλοφορία ρυθμίζεται με τριχρόμη φωτεινή σηματοδότηση.



(K-22)

Κίνδυνος λόγω χαμηλής πτήσης προσηλωμένων ή απογειωμένων αεροπλανών.



(K-23)

Κίνδυνος λόγω συχνού ισχυρού ανέμου (όπως δείχνει η κατεύθυνση των ανεμών).



(K-24)

Προσοχή για διπλή κυκλοφορία.



(K-25)

Προσοχή άλλα κίνδυνοι (μη δηλωθέντα στις πινακίδες K-1 έως K-24).



(K-26)

Προσοχή διασταύρωση όπου ισχύει η από δεξιά προτεραιότητα.



(K-27)

Διασταύρωση με οδό, οι επί της οποίας κινούνται οχήματα να παραχωρήσουν προτεραιότητα.

ΡΥΘΜΙΣΤΙΚΕΣ ΠΙΝΑΚΙΑΕΣ (συνέχεια)



(P-10)

Απαγορεύεται η είσοδος στις μοτοσυκλέτες.



(P-11)

Απαγορεύεται η είσοδος στα ποδήλατα.



(P-12)

Απαγορεύεται η είσοδος στα μοτοσυκλάτα.



(P-13)

Απαγορεύεται η είσοδος σε φορτηγά αυτοκίνητα.



(P-14)

Απαγορεύεται η είσοδος σε μηχανοκίνητο όχημα, το οποίο είναι μηχανοκίνητο ή μηχανοκίνητο με ή χωρίς μηχανοκίνητο ή μηχανοκίνητο εκτός άξονα.



(P-15)

Απαγορεύεται η είσοδος σε πεζούς.



(P-16)

Απαγορεύεται η είσοδος σε ζώδια οχήματα.



(P-17)

Απαγορεύεται η είσοδος σε χειρόμυλες.



(P-18)

Απαγορεύεται η είσοδος σε γεωργικά μηχανήματα.



(P-19)

Απαγορεύεται η είσοδος σε μηχανοκίνητα οχήματα.



(P-20)

Απαγορεύεται η είσοδος σε οχήματα οραμάτων καταρχαίων (π.χ. σε μηχανοκίνητο και ζώδια οχήματα).



(P-21)

Απαγορεύεται η είσοδος σε οχήματα συνολικού πλάτους που υπερβαίνει τα... (π.χ. 2) μέτρα.



(P-22)

Απαγορεύεται η είσοδος σε οχήματα συνολικού ύψους που υπερβαίνει τα... (π.χ. 3,5) μέτρα.



(P-23)

Απαγορεύεται η είσοδος σε οχήματα συνολικού βάρους που υπερβαίνει τους... (π.χ. 5) τόνους.



(P-24)

Απαγορεύεται η είσοδος σε οχήματα βάρους ανά άξονα που υπερβαίνει τους... (π.χ. 2) τόνους.

ΕΥΘΜΙΣΤΙΚΕΣ ΠΙΝΑΚΙΑΣ (συνέχεια)



(P-24)

Απαγορεύεται η είσοδος σε οχήματα ή επιβατικούς οχημάτων μέρους, που υπερβαίνει τα... (π.χ. 10) μέτρα.



(P-26)

Απαγορεύεται η είσοδος οχημάτων σε οδική διαδρομή που... (π.χ. 30) μέτρα από το προοριστικό.



(P-27)

Απαγορεύεται η οπισθογική στροφή.



(P-28)

Απαγορεύεται η δεξιά στροφή.



(P-29)

Απαγορεύεται η αναστροφή (στροφή κατά 180°).



(P-30)

Απαγορεύεται το προσπέρασμα μηχανοκίνητων οχημάτων, πλην των δικύκλων μοτοποικιλιών χωρίς κίνητρο.



(P-31)

Απαγορεύεται στους οδηγούς φορτηγών οχημάτων μέγιστο επιτρεπόμενο βάρος, που υπερβαίνει τους 45 τόνους, να προσπεράσουν άλλα οχήματα.



(P-32)

Η μέγιστη ταχύτητα περιορίζεται στον αναγραφόμενο αριθμό των... (π.χ. 50) χιλόμετρα.



(P-33)

Απαγορεύεται η χρήση μηχανών οχημάτων προειδοποιητής (πυρός για αποτροπή δυστυχήματος).



(P-34)

Απαγορεύεται η διέλευση χωρίς επίσημη προεπιστροφή Διοδίων.



(P-35)

Απαγορεύεται η διέλευση χωρίς επίσημη προεπιστροφή Διοδίων.



(P-36)

Τόπος όπου των τακτικών απαγορεύσεων, που έχουν επιβληθεί με απαγορευτικές πινακίδες στα αναφερόμενα οχήματα.



(P-37)

Τόπος όπου ταχύτητας, που έχει επιβληθεί με απαγορευτικές πινακίδες (π.χ. 40) χιλόμετρα.



(P-38)


Τόπος απαγόρευσης προσπεράσεων, που έχει επιβληθεί με απαγορευτική πινακίδα.




(P-39)

Απαγορεύεται η στάθμευση.





Αριθμογραμμή



Αριθμογραμμή



Άδεια Οδήγησης

<p>1. ΕΠΩΝΥΜΟ ΠΑΥΛΙΔΗΣ</p> <p>2. ΟΝΟΜΑ ΟΝ. ΠΑΤΡ. ΣΥΖΥΓΟΥ</p> <p>3. ΧΡΟΝ. ΚΑΙ ΤΟΠΟΣ ΓΕΝΝΗΣΗΣ 2-6-1975</p> <p>4. ΔΙΕΥΘΥΝΣΗ ΑΤΤΙΚΗΣ 5</p> <p style="font-size: small;">Οδός Αριθμός Δήμος Κοινότη. Νομός</p> <p style="text-align: right;">ΤΑΧ. ΚΩΔ. 62150</p> <p>5. ΕΚΔΟΘΗΚΕ ΑΠΟ</p> <p>6. ΗΜΕΡ. ΕΚΔΟΣΗΣ 15-3-1998</p> <p>7. ΙΣΧΥΕΙ ΜΕΧΡΙ 15-3-2053</p> <p>8. ΑΡΙΘ. ΑΔΕΙΑΣ 21042</p> <p style="text-align: center;">Ο ΠΡΟΪΣΤΑΜΕΝΟΣ</p> 	<table border="1" style="width: 100%; border-collapse: collapse;"> <thead> <tr> <th style="width: 10%;"></th> <th style="width: 70%;">Κατηγορίες οχημάτων για τις οποίες ισχύει η άδεια</th> <th style="width: 20%;">Σήμανση κατηγορίας</th> </tr> </thead> <tbody> <tr> <td style="text-align: center;">A</td> <td>Μοτοσικλές δίκυκλες ή τρίκυκλες</td> <td></td> </tr> <tr> <td style="text-align: center;">B</td> <td>Επιβατικά αυτοκίνητα μέχρι 8 θέσεων, εκτός από τη θέση του οδηγού και φορτηγά αυτοκίνητα μέγιστου επιτρεπόμενου βάρους μέχρι 3.500 χλγρ. με δυνατότητα έλξης ελαφρού ρυμουλκούμενου.</td> <td style="text-align: center;"></td> </tr> <tr> <td style="text-align: center;">Γ</td> <td>Αυτοκίνητα της κατηγορίας Β και φορτηγά μέγιστου επιτρεπόμενου βάρους πάνω από 3.500 χλγρ. με δυνατότητα έλξης ελαφρού ρυμουλκούμενου.</td> <td></td> </tr> <tr> <td style="text-align: center;">Δ</td> <td>Αυτοκίνητα της κατηγορίας Β, Γ και λεωφορεία με δυνατότητα έλξης ελαφρού ρυμουλκούμενου</td> <td></td> </tr> <tr> <td style="text-align: center;">Ε</td> <td>Συνδυασμό οχημάτων, εφόσον ο εκδότης τους υπάγεται στις κατηγορίες Β, Γ ή Δ, για τις οποίες ο οδηγός έχει το δικαίωμα οδήγησης, αλλά οι ίδιοι οι συνδυασμοί δεν υπάγονται στην κατηγορία ή στις κατηγορίες αυτές</td> <td></td> </tr> </tbody> </table>		Κατηγορίες οχημάτων για τις οποίες ισχύει η άδεια	Σήμανση κατηγορίας	A	Μοτοσικλές δίκυκλες ή τρίκυκλες		B	Επιβατικά αυτοκίνητα μέχρι 8 θέσεων, εκτός από τη θέση του οδηγού και φορτηγά αυτοκίνητα μέγιστου επιτρεπόμενου βάρους μέχρι 3.500 χλγρ. με δυνατότητα έλξης ελαφρού ρυμουλκούμενου.		Γ	Αυτοκίνητα της κατηγορίας Β και φορτηγά μέγιστου επιτρεπόμενου βάρους πάνω από 3.500 χλγρ. με δυνατότητα έλξης ελαφρού ρυμουλκούμενου.		Δ	Αυτοκίνητα της κατηγορίας Β, Γ και λεωφορεία με δυνατότητα έλξης ελαφρού ρυμουλκούμενου		Ε	Συνδυασμό οχημάτων, εφόσον ο εκδότης τους υπάγεται στις κατηγορίες Β, Γ ή Δ, για τις οποίες ο οδηγός έχει το δικαίωμα οδήγησης, αλλά οι ίδιοι οι συνδυασμοί δεν υπάγονται στην κατηγορία ή στις κατηγορίες αυτές	
	Κατηγορίες οχημάτων για τις οποίες ισχύει η άδεια	Σήμανση κατηγορίας																	
A	Μοτοσικλές δίκυκλες ή τρίκυκλες																		
B	Επιβατικά αυτοκίνητα μέχρι 8 θέσεων, εκτός από τη θέση του οδηγού και φορτηγά αυτοκίνητα μέγιστου επιτρεπόμενου βάρους μέχρι 3.500 χλγρ. με δυνατότητα έλξης ελαφρού ρυμουλκούμενου.																		
Γ	Αυτοκίνητα της κατηγορίας Β και φορτηγά μέγιστου επιτρεπόμενου βάρους πάνω από 3.500 χλγρ. με δυνατότητα έλξης ελαφρού ρυμουλκούμενου.																		
Δ	Αυτοκίνητα της κατηγορίας Β, Γ και λεωφορεία με δυνατότητα έλξης ελαφρού ρυμουλκούμενου																		
Ε	Συνδυασμό οχημάτων, εφόσον ο εκδότης τους υπάγεται στις κατηγορίες Β, Γ ή Δ, για τις οποίες ο οδηγός έχει το δικαίωμα οδήγησης, αλλά οι ίδιοι οι συνδυασμοί δεν υπάγονται στην κατηγορία ή στις κατηγορίες αυτές																		

Λογαριασμός ύδρευσης



ΕΥΑΘ
Ποιότητα ζωής!

ΕΤΑΙΡΕΙΑ ΥΔΡΕΥΣΗΣ & ΑΠΟΧΕΤΕΥΣΗΣ ΘΕΣΣΑΛΟΝΙΚΗΣ Α.Ε.
ΕΓΝΑΤΙΑ 127 - 546 35 ΘΕΣΣΑΛΟΝΙΚΗ
 ΤΗΛ. 2310 966.600, 2310 212.231, 2310 230.629 - FAX 2310 212.439
 Α.Μ.Α.Ε. 41913/62/Β/98/264 - Α.Φ.Μ. 094549011
 Δ.Ο.Υ. ΦΑΕ ΘΕΣΣΑΛΟΝΙΚΗΣ
 www.eyath.gr

**ΑΠΟΔΕΙΞΗ
ΕΙΔΟΠΟΙΗΣΗΣ
Α ΤΕΤΡΑΜΗΝΟΥ**

ΥΠΟΧΡΕΩΣ: **ΓΕΩΡΓΙΟΥ Π. ΕΡΜΟΥ 5**

ΔΙΕΥΘΥΝΣΗ:

Τ.Κ.:

ΧΡΗΣΤΗΣ:

ΑΡΙΘΜΟΣ ΚΑΤΑΝΑΛΩΤΟΥ: **35-34-000-30-80**

Α.Φ.Μ. ή Τελ. χρήστη: 0

Αριθ. Τηλεφ. 32

Υδρομετρο: 612500Φ013ΟΥΝ

Εγγύηση Υδρ.: Αρ. Μηχανής: ΑΚΝ00787378

Εγγύηση Ημερομηνία: 27/05/2004

ΠΕΡΙΟΔΟΣ ΚΑΤΑΝΑΛΩΣΗΣ		ΕΠΟΜΕΝΗ ΜΕΤΡΗΣΗ		ΕΚΔΟΘΗΚΕ	
ΑΠΟ:	05/12/2003	ΕΩΣ:	04/04/2004	11/08/2004	27/05/2004

ΕΝΔΕΙΞΕΙΣ ΥΔΡΟΜΕΤΡΟΥ			ΗΜΕΡΟΜΗΝΙΑ ΛΗΞΗΣ ΠΛΗΡΩΜΗΣ					
ΠΡΟΗΓΟΥΜΕΝΗ:	123	ΝΕΑ:	141	ΔΙΑΦΟΡΑ m³:	18	ΧΡΕΩΣΗ m³:	18	28/06/2004

ΑΝΑΛΥΣΗ ΧΡΕΩΣΗΣ ανά m³		ΑΝΑΛΥΣΗ ΛΟΓΑΡΙΑΣΜΟΥ	
ΚΑΤΑΝΑΛΩΣΗ	ΕΥΡΩ	Β. ΤΙΜΟΛΟΓΗΣΗ ΥΠΗΡΕΣΙΩΝ	ΕΥΡΩ
10 ΚΥΒΙΚΑ	0,26000	ΑΞΙΑ ΝΕΡΟΥ	5,80
8 ΚΥΒΙΚΑ	0,40000	ΑΞΙΑ ΑΠΟΧΕΤΕΥΣΗΣ (55%)	3,19
		ΠΑΓΙΟ ΤΕΛΟΣ	2,14
		ΣΥΝΤΗΡΗΣΗ ΥΔΡΟΜΕΤΡΟΥ	2,08
		ΤΟΚΟΙ ΚΑΘΥΣΤΕΡΟΥΜΕΝΩΝ	
		ΕΙΔΙΚΑ ΤΕΛΗ	
		ΛΟΙΠΑ	
		ΣΤΡΟΓΓΥΛΟΠΟΙΗΣΗ ΠΡΟΗΓ. ΛΟΓΑΡΙΑΣΜΟΥ	-0,35
		ΣΤΡΟΓΓΥΛΟΠΟΙΗΣΗ ΝΕΟΥ ΛΟΓΑΡΙΑΣΜΟΥ	0,35
		ΣΥΝΟΛΟ Β.	13,21
		Γ. Φ.Π.Α.	ΕΥΡΩ
		ΥΔΡΕΥΣΗΣ 8%	0,46
		ΑΠΟΧΕΤΕΥΣΗΣ 16%	0,57
		ΛΟΙΠΩΝ ΥΠΗΡΕΣΙΩΝ 18%	0,76
		ΣΥΝΟΛΟ Γ.	1,79
		ΤΕΛΙΚΟ ΠΟΣΟ ΠΛΗΡΩΜΗΣ (Α + Β + Γ) ΕΥΡΩ	15,00

Α. ΑΝΕΞΟΔΩΤΟΙ ΛΟΓΑΡΙΑΣΜΟΙ ΕΥΡΩ

0,00

ΕΥΑΘ 17 ΙΟΥΝΙΟΥ 2004

ΕΥΑΘ ΕΡΩΦΙΛΗ

Χρησιμοποιήστε για οικονομία το καταναλωθέν νερό.
Μην αφήνετε τη βρύση να τρέχει αδιάκοπα. Πλύνετε τα δόντια σας ή όταν ξυράστε ή όταν πλύνετε τα πιάτα, κλείστε την απορροϊκή κεφαλίτσα...
Μην χρονοποιείτε άσκοπα το κανάλι της τουαλέτας, απενεργοποιώντας την καλύτερα σημείο το φίλτρου...
Μην πλένετε τα αυτοκίνητά σας με το λούτσκι...
Μην καταβρέχετε τα μπαλκόνια, τα πεζοδρόμια, τους εξωτερικούς τοίχους, κατά την περίοδο καύσωνα...
Έτσι εξοικονομείτε: ΝΕΡΟ για όλους, ΧΡΗΜΑ για εσάς.

ΒΛΑΒΕΣ ΝΕΡΟΥ 24/ΩΡΟ: ΤΗΛ. 1202, 2310 207.345, 2310 203.979
 ΒΛΑΒΕΣ ΑΠΟΧΕΤΕΥΣΗΣ: ΤΗΛ. 1202, 2310 318.314, 2310 300.846